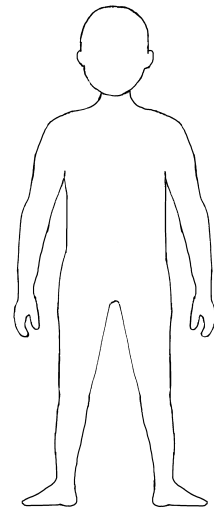


★ Mein Körper und seine Teile


Alle Menschen sind verschieden. Doch alle Menschen haben den gleichen Bauplan.

1 Male das Bild so an:

Körperteil	Farbe
Kopf	gelb
Rumpf (Hals, Brust, Bauch)	rot
Gliedmaßen (Arme, Beine)	grün



2 Auch Alien Pollux hat Kopf, Rumpf und Gliedmaßen. Male Pollux' Körper wie in Aufgabe 1 *gelb*, *rot* und *grün* an. Zähle seine Körperteile und schreibe auf.



Pollux hat insgesamt Körperteile.

3 Zähle deine Körperteile und schreibe auf.

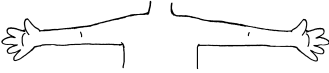
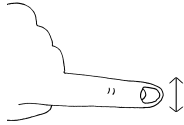
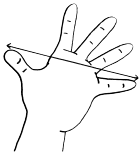



<input type="text"/> Kopf		<input type="text"/> Arme
<input type="text"/> Hals		<input type="text"/> Hände
<input type="text"/> Rumpf		<input type="text"/> Finger
<input type="text"/> Beine		<input type="text"/> Zehen
<input type="text"/> Füße		

Ich habe insgesamt Körperteile gezählt.

☆☆ Meine Körpermaße



1 Fülle die Tabelle aus. Such dir einen Partner und helft euch gegenseitig beim Messen.

Körpermaß	Körpermaß	Was ist ungefähr ebenso lang?
	etwa <input type="text"/> cm	das Tafellineal
	etwa <input type="text"/> cm	<input type="text"/>
	etwa <input type="text"/> cm	<input type="text"/>
	etwa <input type="text"/> cm	<input type="text"/>
	etwa <input type="text"/> cm	<input type="text"/>
	etwa <input type="text"/> cm	<input type="text"/>

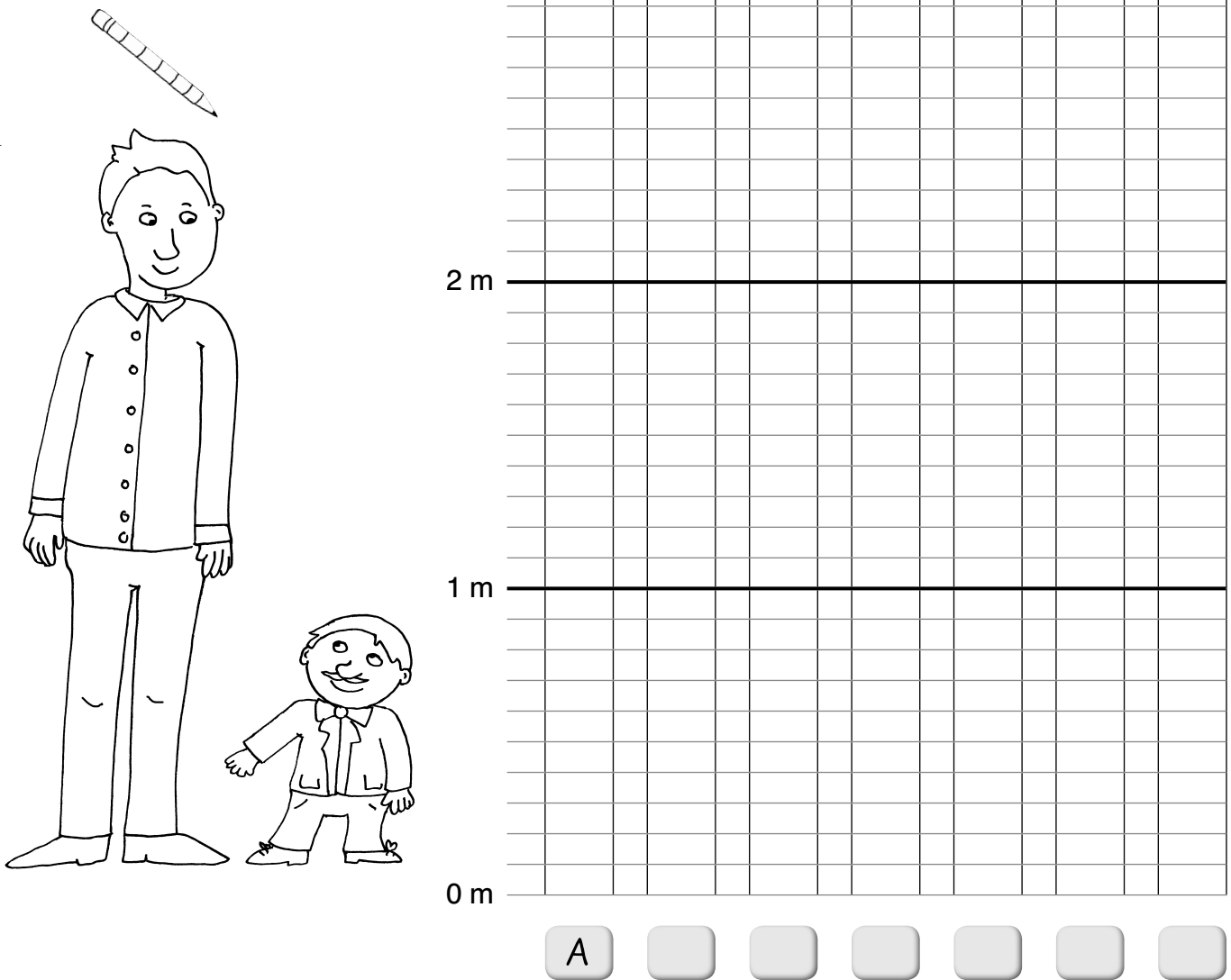
2 Wie lang ist ...? Miss mit einem Körpermaß. Rechne um in cm.


So lang ist ...	Körpermaß	cm
Beispiel: Klaras Anspitzer	7 Fingerbreiten	7 cm
mein Tisch		
mein Matheheft		
meine Schultasche		

1 Ergänze die Tabelle. Achte auf die richtige Schreibweise.

A) viele Erwachsene	B) größter Mann der Welt	C) größte Frau der Welt	D) kleinster Mann der Welt	E) kleinste Frau der Welt	F) ich
			55 cm		
	2 m 72 cm				
1,75 m ≈ 1,80 m		2,55 m ≈ 2,60 m		0,63 m ≈ 0,60 m	

2 Male für jede gerundete Größe eine Säule im Schaubild an.



 Frage einen Klassenkameraden nach seiner Größe und zeichne die passende Säule in das Schaubild.